
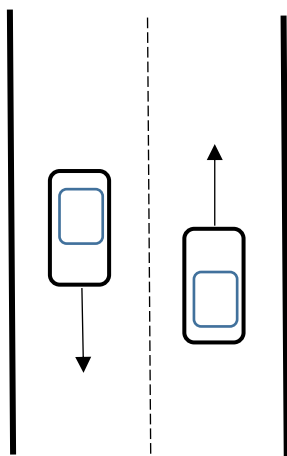


1. Što je promet?
2. Tko su sudionici cestovnog prometa?
3. Unesi dijelove ceste




4. Slika prikazuje cestu bez nogostupa. Plavim strelicama označi smjer kretanja biciklista, a crvenim strelicama smjer kretanja pješaka (za obje kolničke trake).



5. Prometni znakovi opasnosti uglavnom su oblika _____

6. Grupiraj prometne znakove



A

B

C

D

E

F

Znakovi opasnosti: _____

Znakovi obavijesti: _____

Znakovi naredbi: _____

7. Koja su vozila s prednošću prolaska?

8. Tko smije upravljati biciklom?

9. Zaokruži ispravno ponašanje biciklista

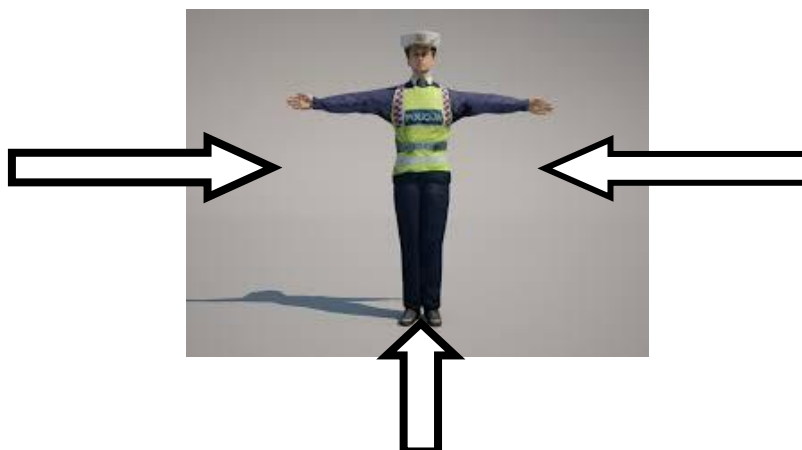


A

B

C

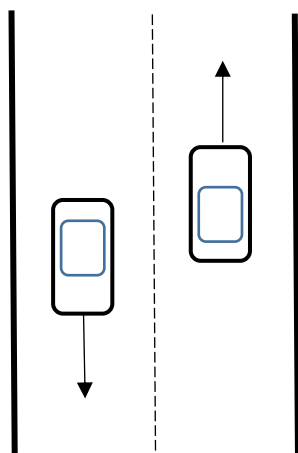
10. Zaokruži dozvoljene smjerove kretanja



1. Što je promet?
2. Kako se promet dijeli?
3. Unesi dijelove ceste



4. Slika prikazuje cestu bez nogostupa. Plavim strelicama označi smjer kretanja biciklista, a crvenim strelicama smjer kretanja pješaka (za obje kolničke trake).



5. Prometni znakovi izričitih naredbi uglavnom su oblika _____.

6. Grupiraj prometne znakove



A



B



C



D



E



F

Znakovi opasnosti: _____

Znakovi izričitih naredbi: _____

Znakovi obavijesti: _____

7. Navedi prioritete kod upravljanja prometom na križanju.

8. Tko smije upravljati biciklom?

9. Zaokruži ispravno ponašanje biciklista



A



B



C

10. Zaokruži dozvoljene smjerove kretanja

